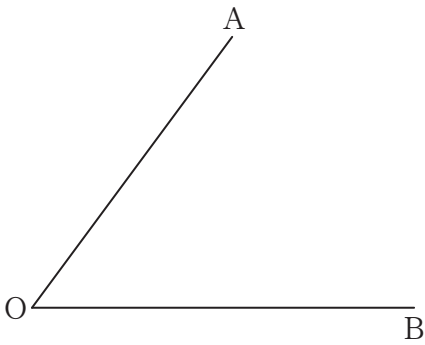


基本作図

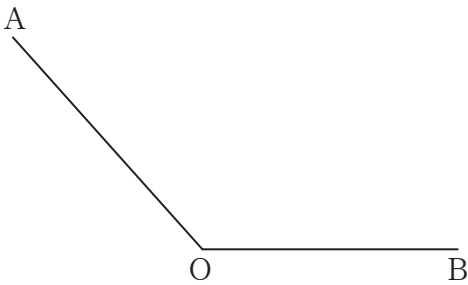
① 線分 AB の垂直二等分線を作図しなさい。



② $\angle AOB$ の二等分線を作図しなさい。



③ $\angle AOB$ の二等分線を作図しなさい。

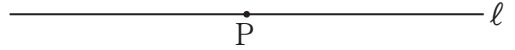


④ 点 P を通り、直線 l に垂直な直線を作図しなさい。

P



⑤ 点 P を通り、直線 l に垂直な直線を作図しなさい。



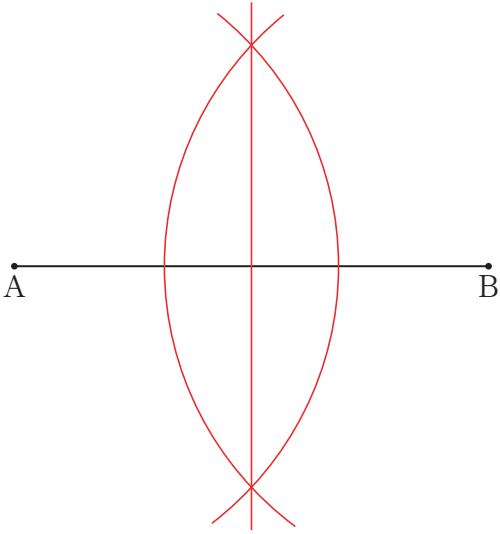
⑥ 点 P を通り、直線 l に平行な直線を作図しなさい。

P

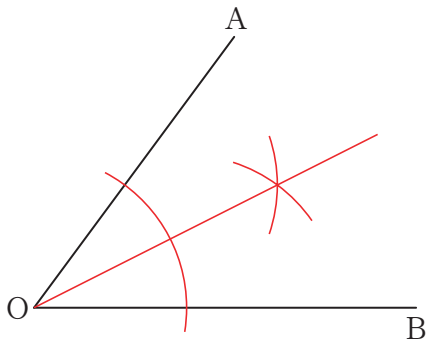


基本作図

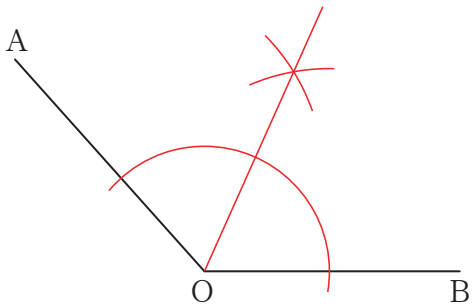
① 線分 AB の垂直二等分線を作図しなさい。



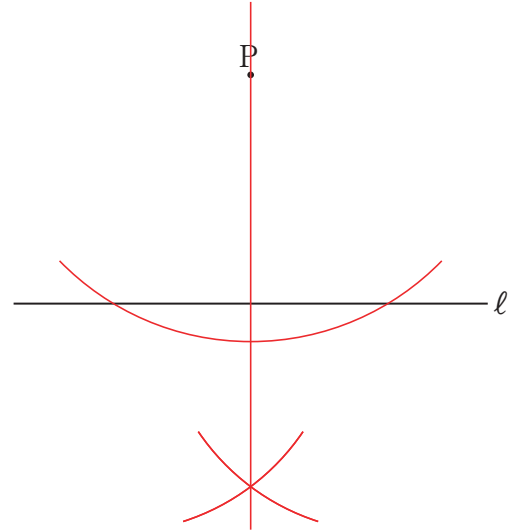
② $\angle AOB$ の二等分線を作図しなさい。



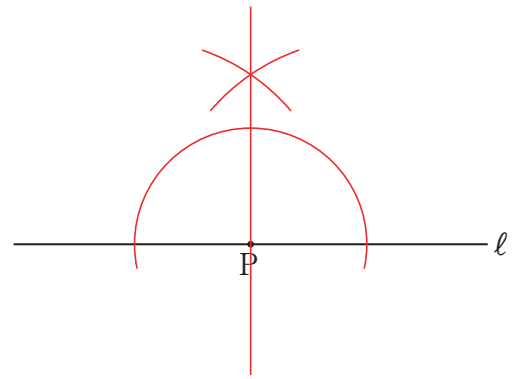
③ $\angle AOB$ の二等分線を作図しなさい。



④ 点 P を通り、直線 l に垂直な直線を作図しなさい。



⑤ 点 P を通り、直線 l に垂直な直線を作図しなさい。



⑥ 点 P を通り、直線 l に平行な直線を作図しなさい。

